







Nome: _____

DESAFIO MATEMÁTICO - 2º ANO

1 - Conte e escreva a quantidade de cada fruta.



2 - Complete as sequências numéricas.

a) 19 - _____ - 17 - _____ - 15

c) 6 - 8 - _____ - _____ - 14

b) 3 - _____ - 9 - _____ - 15

d) _____ - 10 - 15 - _____ - 25

3 - Resolva as continhas.

$$\begin{array}{r} 5 \\ \times 2 \\ \hline \end{array}$$

$$\begin{array}{r} 4 \\ \times 1 \\ \hline \end{array}$$

$$\begin{array}{r} 3 \\ \times 3 \\ \hline \end{array}$$

$$\begin{array}{r} 2 \\ \times 8 \\ \hline \end{array}$$

$$\begin{array}{r} 3 \\ \times 9 \\ \hline \end{array}$$

$$\begin{array}{r} 5 \\ \times 3 \\ \hline \end{array}$$

4 - Compare os números e use os símbolos (>), (<) ou (=) entre eles.

84 _____ 71

12 _____ 21

13 _____ 8

10 _____ 10

2 _____ 9

5 - Resolva o problema.

Maria preparou 20 balas na cantina da escola.

Ela distribuiu 17 balas para seus amigos.

Com quantas balas Maria ficou?



Resposta: Maria ficou com _____ balas