


Atividade de Matemática – 1º Ano

Nome: _____

Data: ____ / ____ / ____

Professora: _____

Questão 1

Observe os desenhos: 

Quantas maçãs há?

- a) 3
- b) 5
- c) 7

Questão 2

Em uma cesta há **12 laranjas** e em outra há **9 laranjas**.

Qual cesta tem **mais laranjas**?

- a) Primeira cesta
- b) Segunda cesta
- c) As duas têm a mesma quantidade

Questão 3

Escreva os números que vêm **antes e depois** de 48.

_____ – 48 – _____

Questão 4

Resolva:

João tinha 6 balas. Ganhou mais 4.

Quantas balas ele tem agora?

Questão 5

Complete a sequência numérica:

2, 4, 6, ____, ____, ____

Questão 6

Na sala de aula, a professora está **em frente ao quadro**.

A mesa dos alunos está **atrás** dela.




Onde está a professora em relação ao quadro?

- a) Atrás do quadro
- b) Em frente ao quadro
- c) Ao lado do quadro



Questão 7

Associe as figuras aos objetos:

-  Círculo → () Bola
-  Quadrado → () Janela
-  Triângulo → () Sinal de trânsito

Questão 8

Lucas tem duas garrafas:

- Garrafa A cabe 1 litro.
- Garrafa B cabe 2 litros.

Qual garrafa **cabe mais**?

E se Lucas quiser comprar uma bala que custa R\$1,00, quais moedas pode usar?

- a) R\$0,50 + R\$0,50
- b) R\$0,25 + R\$0,25
- c) R\$1,00

Questão 9

Complete:

Hoje é **segunda-feira**.

Ontem foi _____.

Amanhã será _____.

Questão 10

Leia a tabela de frutas preferidas de uma turma:

Fruta	Quantidade de alunos
Maçã	8
Banana	5
Uva	7

- a) Qual fruta foi a mais escolhida?
- b) Qual fruta foi a menos escolhida?
- c) Quantos alunos preferem uva?



✓ Gabarito

1. b) 5
2. a) Primeira cesta
3. 47 – 48 – 49
4. 10 balas
5. 8, 10, 12
6. b) Em frente ao quadro
7. Bola (círculo), Janela (quadrado), Sinal de trânsito (triângulo)
8. Garrafa B / alternativas a) ou c)
9. Domingo / Terça-feira
10. a) Maçã
b) Banana
c) 7 alunos

