


Atividade de História 4º ano

Nome: _____

Data: ____ / ____ / ____

Professora: _____

 Habilidade BNCC: (EF04HI03) Identificar as transformações ocorridas na cidade ao longo do tempo e discutir suas interferências nos modos de vida de seus habitantes, tomando como ponto de partida o presente.

1. Complete a frase com as palavras corretas:

As cidades mudaram muito ao longo do tempo. Antigamente, eram menores, com poucas _____, ruas de _____ e poucos _____.

2. Observe as duas imagens (caso deseje usar imagens, sugerem-se as descrições abaixo):

- Imagem A: Rua de terra, poucas casas, árvores, carroça.
- Imagem B: Rua asfaltada, prédios, carros, semáforo.

 Qual imagem representa a cidade atual?

- (A) Imagem A
- (B) Imagem B
- (C) Nenhuma das duas
- (D) As duas são atuais
- (E) Imagem A representa a cidade moderna

3. Marque V (verdadeiro) ou F (falso):

- () Hoje em dia há mais carros do que no passado.
- () As cidades ficaram menores com o tempo.
- () No passado, quase não existiam prédios.
- () As cidades não mudaram nada com o tempo.

4. Ligue as colunas corretamente:

ANTES

- () Poucas ruas asfaltadas
- () Casas com fogão à lenha
- () Transporte com carroça

AGORA

- A. Ruas asfaltadas e sinalizadas
- B. Fogão elétrico ou a gás
- C. Carros, motos e ônibus



APOIO AO
Professor



APOIO AO
Professor

5. Marque a alternativa que mostra uma mudança na cidade ao longo do tempo:

- (A) A permanência das árvores
- (B) A construção de novos prédios e avenidas
- (C) As crianças brincando nas ruas
- (D) A venda de alimentos na feira
- (E) A vida tranquila nas fazendas

6. Escreva dois exemplos de mudanças que você percebe na sua cidade comparando com histórias contadas por seus pais ou avós:

7. Complete a tabela com exemplos:

Ontem (passado)	Hoje (presente)
As crianças brincavam na rua	<hr/>
Havia poucas escolas	<hr/>
As pessoas andavam mais a pé	<hr/>



8. O que você acha que melhorou com o crescimento da cidade?

9. Marque a alternativa que mostra uma consequência do crescimento das cidades:

- (A) Diminuição da poluição do ar
- (B) Mais áreas verdes preservadas
- (C) Mais trânsito e barulho
- (D) Mais espaço para brincar nas ruas
- (E) Menos prédios e ruas asfaltadas

10. Desenhe duas cenas:



-  Uma representando uma cidade do passado
-  Outra representando uma cidade de hoje



APOIO AO
Professor



APOIO AO
Professor

✓ GABARITO:

1. casas / terra / carros
2. (B)
3. V / F / V / F
4. (A) - (B) - (C)
5. (B)
6. Resposta pessoal (espera-se: construção de prédios, surgimento de supermercados, asfalto, iluminação pública, etc.)
7. Sugestões:
 - Hoje: As crianças brincam com eletrônicos
 - Hoje: Existem muitas escolas
 - Hoje: As pessoas usam carros e ônibus
8. Resposta pessoal (espera-se: mais hospitais, escolas, transporte, tecnologia, etc.)
9. (C)
10. Avaliação visual (deve mostrar diferenças como casas simples x prédios, carroça x carros, árvores x postes, etc.)

