

Atividade: Problemas Simples com História – Matemática 2º Ano



Nome: _____ Data: ____/____/____

Professora: _____

Enunciado:

Resolva os problemas abaixo usando as histórias e as figuras. Leia cada questão com atenção, observe as imagens, faça os cálculos e descubra as respostas corretas!

1. A feira da Maria

Maria comprou  (6 bananas) e  (3 maçãs). Quantas frutas ela comprou no total?

- a) 8
- b) 9
- c) 10
- d) 7

2. Os brinquedos do João

João tem 12 carrinhos de brinquedo . Ele deu 5 carrinhos para seu irmão . Com quantos carrinhos João ficou?

- a) 6
- b) 5
- c) 7
- d) 8



3. O bolo da festa

Ana fez um bolo com 20 fatias

. Seus amigos comeram 15 fatias. Quantas fatias sobraram?

- a) 3
- b) 5
- c) 7
- d) 4




4. As balas de Pedro

Pedro tinha 18 balas . Ele deu 9 balas para os amigos e depois ganhou mais 5 . Quantas balas Pedro tem agora?

- a) 14
- b) 15
- c) 12
- d) 13



5. As pipas no céu

Havia 10 pipas voando no céu . O vento derrubou 4 , mas depois as crianças subiram mais 3 . Quantas pipas estão voando agora?

- a) 9
- b) 10
- c) 8
- d) 7

6. Os patos do lago

No lago, havia 8 patos . Depois, chegaram mais 6 . Quantos patos estão no lago agora?



- a) 12
- b) 14
- c) 13
- d) 15

7. A sala de aula

Na sala, havia 25 alunos ... (25). No recreio, 7 saíram  e 3 voltaram . Quantos alunos ficaram na sala?

- a) 21
- b) 20
- c) 22
- d) 19

8. Os cadernos do Tiago

Tiago comprou 3 cadernos  para a escola. Depois, ganhou mais 2 . Quantos cadernos ele tem agora?

- a) 4
- b) 6
- c) 5
- d) 7

9. A loja de sorvetes

Na sorveteria, Julia comprou 4 picolés . Ela comeu 1  e deu 2  para os amigos. Quantos picolés sobraram para Julia?

- a) 2
- b) 1
- c) 3
- d) 0

10. Os balões da festa

Na festa, Carlos encheu 15 balões . Durante a brincadeira, 5 estouraram . Quantos balões ainda estão inteiros?

- a) 8
- b) 10
- c) 9
- d) 11



Dicas para resolver:

- Leia com atenção os números e as situações descritas.
- Observe as figuras para ajudar no cálculo.
- Decida se precisa somar ou subtrair para encontrar a resposta.

Com essa atividade, as crianças aprendem matemática enquanto resolvem histórias divertidas e trabalham com figuras visuais para facilitar o aprendizado! 😊

