

Atividade: Adição com Figuras – Matemática 2º Ano

Nome: _____ Data: ____/____/____


Professora: _____

Enunciado:

O parque da escola está cheio de surpresas e desafios! Para resolver os problemas, você precisará contar os objetos, somar e responder de diferentes formas. Use sua criatividade e atenção para completar as atividades.

1. Marque a alternativa correta:

João encontrou balões vermelhos e azuis no parque. Ele contou:



Quantos balões ele encontrou no total?

- a) 5
- b) 6
- c) 4
- d) 7

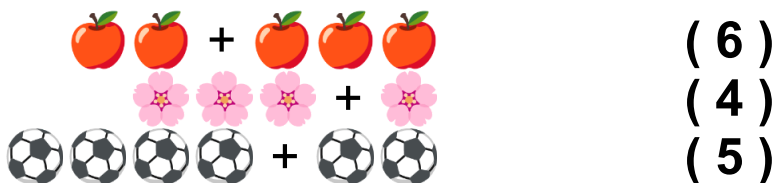
2. Complete a frase:

Ana viu peixes no lago e contou:



Ao todo, havia _____ peixes no lago.

3. Ligue cada soma ao resultado correto:



4. Resolva o problema:

Carlos encontrou flores e contou:




Quantas flores ele tem agora?

R: _____

5. Pinte o total de bolas de futebol:




Pinte as bolas na resposta correta:



6. Ligue os itens às suas quantidades totais:

Imagens:



(5)

(6)

(7)

7. Associe o problema ao resultado:

Problema

Resultado

(Ana comprou 3 maçãs e ganhou mais 2)

(5)

(João encontrou 4 pipas e comprou mais 3)

(4)

(Maria viu 2 patos e depois 2 gansos no lago)

(7)



8. Organize os números das somas em ordem crescente:

1º:  + 

2º:  + 

3º:  + 

Ordem:

- a) 5, 4, 6
- b) 4, 6, 5
- c) 6, 5, 4

9. Escolha a alternativa que completa a frase:

"A festa tem _____ cadeiras, se Pedro trouxe 3 e Maria trouxe mais 3."

- a) 7
- b) 5
- c) 6
- d) 4

10. Conte as estrelas e responda (Desenhe o total no quadro):

 +  = _____ estrelas.

R: _____

